



A

İŞLETİM SİSTEMLERİ ve UYG. FİNAL SINAVI

11.01.2013

NO : \_\_\_\_\_

AD SOYAD :

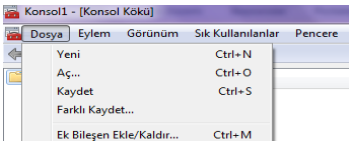
İMZA

	A	B	C	D		A	B	C	D		A	B	C	D		A	B	C	D		A	B	C	D
1	<input type="radio"/>	<input type="radio"/>	<input type="radio"/>	<input checked="" type="radio"/>	7	<input checked="" type="radio"/>	<input type="radio"/>	<input type="radio"/>	<input type="radio"/>	13	<input type="radio"/>	<input type="radio"/>	<input checked="" type="radio"/>	<input type="radio"/>	19	<input type="radio"/>	<input type="radio"/>	<input type="radio"/>	<input checked="" type="radio"/>	25	<input type="radio"/>	<input type="radio"/>	<input checked="" type="radio"/>	<input type="radio"/>
2	<input type="radio"/>	<input type="radio"/>	<input type="radio"/>	<input checked="" type="radio"/>	8	<input type="radio"/>	<input checked="" type="radio"/>	<input type="radio"/>	<input type="radio"/>	14	<input type="radio"/>	<input checked="" type="radio"/>	<input type="radio"/>	<input type="radio"/>	20	<input checked="" type="radio"/>	<input type="radio"/>	<input type="radio"/>	<input type="radio"/>	26	<input checked="" type="radio"/>	<input type="radio"/>	<input type="radio"/>	<input type="radio"/>
3	<input type="radio"/>	<input type="radio"/>	<input type="radio"/>	<input checked="" type="radio"/>	9	<input type="radio"/>	<input type="radio"/>	<input checked="" type="radio"/>	<input type="radio"/>	15	<input type="radio"/>	<input type="radio"/>	<input type="radio"/>	<input checked="" type="radio"/>	21	<input type="radio"/>	<input type="radio"/>	<input checked="" type="radio"/>	<input type="radio"/>	27	<input type="radio"/>	<input checked="" type="radio"/>	<input type="radio"/>	<input type="radio"/>
4	<input checked="" type="radio"/>	<input type="radio"/>	<input type="radio"/>	<input type="radio"/>	10	<input checked="" type="radio"/>	<input type="radio"/>	<input type="radio"/>	<input type="radio"/>	16	<input checked="" type="radio"/>	<input type="radio"/>	<input type="radio"/>	<input type="radio"/>	22	<input checked="" type="radio"/>	<input type="radio"/>	<input type="radio"/>	<input type="radio"/>	28	<input type="radio"/>	<input type="radio"/>	<input type="radio"/>	<input checked="" type="radio"/>
5	<input type="radio"/>	<input checked="" type="radio"/>	<input type="radio"/>	<input type="radio"/>	11	<input type="radio"/>	<input type="radio"/>	<input checked="" type="radio"/>	<input type="radio"/>	17	<input type="radio"/>	<input type="radio"/>	<input checked="" type="radio"/>	<input type="radio"/>	23	<input type="radio"/>	<input checked="" type="radio"/>	<input type="radio"/>	<input type="radio"/>	29	<input type="radio"/>	<input checked="" type="radio"/>	<input type="radio"/>	<input type="radio"/>
6	<input type="radio"/>	<input type="radio"/>	<input type="radio"/>	<input checked="" type="radio"/>	12	<input type="radio"/>	<input type="radio"/>	<input type="radio"/>	<input type="radio"/>	18	<input type="radio"/>	<input type="radio"/>	<input checked="" type="radio"/>	<input type="radio"/>	24	<input checked="" type="radio"/>	<input type="radio"/>	<input type="radio"/>	<input type="radio"/>	30	<input type="radio"/>	<input type="radio"/>	<input checked="" type="radio"/>	<input type="radio"/>

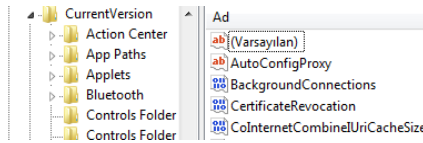
01. Aşağıdakilerden hangisinde çalışan tüm süreçler içinden http string ifadesi hariç www içeren satırlar seçilmiştir?  
D (A) ps -axu|grep -i http|grep www (B) ps -axu|grep -v http|grep www  
(C) ps -axu;grep www;grep -v http (D) ps -axu|grep www|grep -v http
02. Aşağıdakilerden hangisi find komutunun parametrelerinden değildir?  
C (A) ctime (B) type (C) date (D) amin
03. Aşağıdakilerden hangisinde bir dosya üzerinde dosya sahibine tüm erişim yetkileri verilirken, grubun tüm erişim yetkileri kaldırılmış ve grup dışında kalanlara okuma yetkisi verilmiştir?  
D (A) chmod 406 index.php (B) chmod 615 index.php  
(C) chmod 705 index.php (D) chmod 704 index.php
04. Aşağıdaki desenlerden hangisinde find komutu yanlış olarak kullanılmıştır?  
A (A) find /home -type directory (B) find /usr/local -user www -exec /bin/rm {} \;  
(C) find . -user taner -name "\*.php" (D) find / -name "taner"
05. Aşağıdaki komutlardan hangisini kullanarak sisteme login olmuş bir kullanıcı root kullanıcısı olabilir?  
B (A) login (B) su (C) root (D) sh
06. Bir komutun çıktılarını diğer bir komuta girdi olarak göndermek için kullanılan karakter aşağıdakilerden hangisidir?  
D (A) ; (B) > (C) & (D) |
07. FreeBSD işletim sisteminde açılışta ilk konfigürasyon ayarları aşağıdaki dosyalardan hangisinde bulunur?  
A (A) /etc/defaults/rc.conf (B) /boot/defaults/kernel  
(C) /boot/defaults/rc.conf (D) /defaults/boot
08. FreeBSD işletim sisteminde makine açılırken bağlanacak disk veya disk parçaları ile hangi dosyaya göre bağlanır?  
B (A) /etc/mount (B) /etc/fstab (C) /etc/rc.conf (D) /etc/rc.local
09. Filesystem Size Used Avail Capacity Mounted on  
/dev/ad0s1a 449G 285G 128G 69% /  
devfs 1.0K 1.0K 0B 100% /dev  
C Yukarıdaki çıktı aşağıdaki komut desenlerinden hangisi kullanılarak alınmıştır?  
(A) mount (B) du -h (C) df -h (D) sysctl -a
10. Unix işletim sisteminde aşağıdakilerden hangisi ile içi boş bir dosya oluşturulmuştur?  
A (A) touch veriler (B) cat < veriler (C) echo veriler (D) create veriler
11. Aşağıdakilerden hangisinde unix işletim sisteminde iki dosya içeriği birbiri ile karşılaştırılmıştır?  
C (A) diff A.txt < B.txt (B) diff A.txt > B.txt  
(C) diff A.txt B.txt (D) diff A.txt| B.txt
12. Aşağıdakilerden hangisinde bir dosyanın içeriği satır satır alfabetik olarak büyükten küçüğe azalacak şekilde sıralandıktan sonra bir başka dosyaya kaydedilmiştir?  
D (A) sort | kullanıcı.txt | kdizili.txt (B) sort kullanıcı.txt | kdizili.txt  
(C) sort -r < kullanıcı.txt > kdizili.txt (D) sort -r < kullanıcı.txt > kdizili.txt
13. Bir dosyanın sonunda meydana gelen değişiklikleri sürekli izlemek için kullanılan komut aşağıdakilerden hangisidir?  
C (A) tail -n /var/log/messages (B) tail /var/log/messages  
(C) tail -f /var/log/messages (D) tail -r /var/log/messages

## A

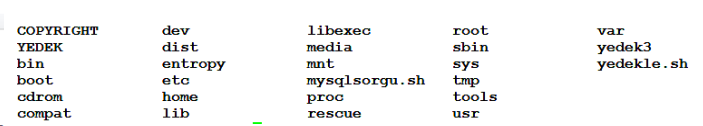
- B** 14. Aşağıdakilerden hangisinde bir FreeBSD işletim sisteminde bir cd sürücü mnt dizinine doğru olarak bağlanmıştır?  
(A) mount -t cd9660 /mnt /dev/acd0 (B) mount -t cd9660 /dev/acd0 /mnt  
(C) umount -t cd9660 /dev/acd0 (D) umount -t cd9660 /mnt
- D** 15. Aşağıdakilerden hangisinde bir tar.gz (tar ile yedeklenirken, gzip ile sıkıştırılmış) dosyasının içeriği görüntülenmiştir?  
(A) tar -zxvf yedek.tar.gz (B) gzip -ztvf yedek.tar.gz|tar  
(C) tar -zcvf yedek.tar.gz|gzip (D) tar -ztvf yedek.tar.gz
- A** 16. Unix işletim sisteminde donanımların sanal görüntüleri aşağıdaki dizinlerden hangisinde bulunur?  
(A) /dev (B) /media (C) /var (D) /usr/src
- C** 17. FreeBSD işletim sisteminde çekirdek derleme komutu aşağıdaki dizinlerden hangisinde verilir?  
(A) /boot (B) / (C) /usr/src (D) /var/db
- C** 18. Bir kabuk programı aşağıdaki satırlardan hangisi ile başlayabilir?  
(A) /bin/sh (B) !/bin/sh (C) #!/bin/sh (D) %!/bin/sh
- D** 19. Şekil 3 bir unix işletim sistemi arayüzünden alınmıştır. Bu arayüzden gözükten dosya veya dizinlerden hangisi kök dizinde standart olarak bulunan dosya veya dizinlerden biri değildir?  
(A) root (B) dev (C) home (D) media
- A** 20. Unix işletim sisteminde en temel ayarlar aşağıdaki dizinlerden hangisinde bulunur?  
(A) /etc (B) /bin (C) /usr (D) /var
- C** 21. Unix işletim sisteminde üçüncü parti yazılımlar ve ayarları aşağıdaki dizinlerden hangisinde bulunur?  
(A) /etc (B) /var (C) /usr/local (D) /var/log
- A** 22. Unix işletim sisteminde login olmuş tüm kullanıcılara mesaj göndermek için aşağıdaki komutlardan hangisi kullanılır?  
(A) wall (B) write (C) talk (D) finger
- B** 23. Windows 7 işletim sisteminde süreçleri görmek için aşağıdakilerden hangisi yapılabilir?  
(A) Denetim Masası, Yönetimsel Araçlar ve ardından Performans izleyicisi çalıştırılır.  
(B) CTRL+ALT+DEL tuşlarına birlikte basıldıktan sonra Görev Yöneticisini Başlat ardından işlemler seçilir.  
(C) Bilgisayar simgesine sağ tıklanarak özellikler açılır. Ardından Performans bilgileri seçilir.  
(D) Komut istemi tıklandıktan sonra PS komutu girilerek
- A** 24. Şekil 2 deki görüntü aşağıdakilerin hangisinin arayüzünden alınmıştır?  
(A) Regedit arayüzünden (B) MMC arayüzünden (C) Yönetimsel araçlar arayüzünden (D) GodMode arayüzünden
- C** 25. Windows 7 işletim sisteminde yeni eklenmiş kullanıcı oturumunu ilk defa açarken bazı ayarları ve dosyaları hangi yolla oluşturulur?  
(A) C:\users\ProgramData kullanıcı dizini açılışta otomatik olarak kopyalanarak  
(B) C:\users\All Users kullanıcı dizini açılışta otomatik olarak kopyalanarak  
(C) C:\users\Default kullanıcı dizini açılışta otomatik olarak kopyalanarak  
(D) İlgili kullanıcının sistem kayıt veritabanındaki verileri kopyalanarak
- A** 26. Aşağıdakilerden hangisi sistem kayıt defterindeki kullanılan veri tiplerinden değildir?  
(A) Integer (B) Dword (C) Binary (D) String
- B** 27. Aşağıdakilerden hangisi Sistem kayıt defterindeki hive lerden biri değildir?  
(A) HKEY\_CLASSES\_ROOT (B) HKEY\_NETWORK (C) HKEY\_CURRENT\_USER (D) HKEY\_USERS
- D** 28. Şekil 1 aşağıdaki programlardan hangisinin arayüzüdür?  
(A) resmon.exe (B) OptionalFeatures.exe (C) regedt32.exe (D) mmc.exe
- B** 29. Windows 7.0 de tüm ayarları tek bir pencereden görüp erişip değiştirebilmek için .....  
(A) denetim masasına gidilir. (B) GodMode.{ED7BA470-8E54-465E-825C-99712043E01C} adında bir klasör oluşturulur.  
(C) sistem güvenli mod ile açılır. (D) windows kök dizinindeki system32 içindeki OptionalFeatures.exe çalıştırılır
- C** 30. Microsoft yönetim konsoluna erişmek için aşağıdakilerden hangisi yapılamaz?  
(A) Komut istemine MMC girilerek çalıştırılır (B) Programları ve dosyaları Ara kısmına MMC girilerek çalıştırılır.  
(C) Kayıt Defteri Düzenleyicisi Dosya menüsünden MMC tıklanır. (D) Windows kök dizini içindeki system32 dizini içindeki MMC.exe çalıştırılır.



Şekil 1



Şekil 2



Şekil 3

*Sınav Süresi 40 dakıkadır.*

*Başarılar*